

Abschlussprüfung 2014

an den Realschulen in Bayern



Prüfungsdauer:
150 Minuten

Mathematik II

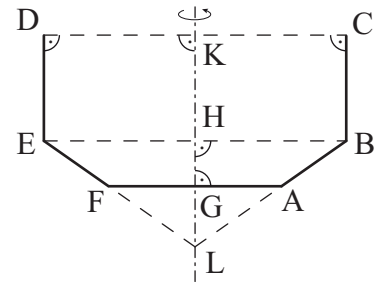
Name: _____ Vorname: _____

Klasse: _____ Platzziffer: _____ Punkte: _____

Aufgabe A 1

Haupttermin

- A 1 Die nebenstehende Skizze dient als Vorlage für eine Pflanzschale. Sie zeigt den Axialschnitt ABCDEF eines Rotationskörpers mit der Rotationsachse KL.



Es gilt:

$$\overline{BC} = 1,4 \text{ dm}; \overline{CD} = 4,0 \text{ dm}; \overline{GH} = 0,6 \text{ dm}; \sphericalangle EBA = 35^\circ.$$

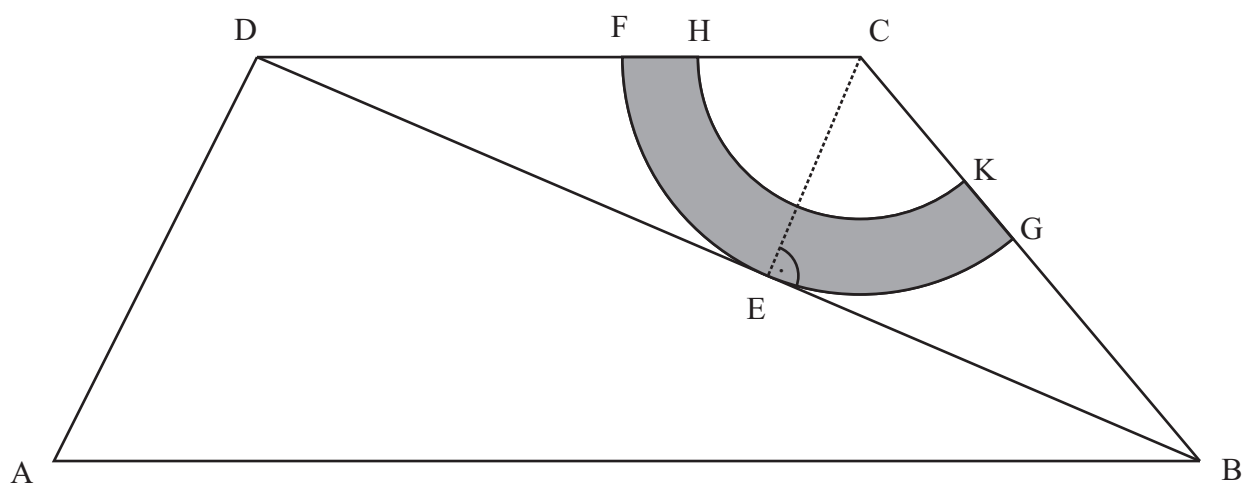
Begründen Sie rechnerisch, ob der Inhalt eines 20-Liter-Sackes Erde vollständig in die Pflanzschale gefüllt werden kann. [Teilergebnis: $\overline{LH} = 1,4 \text{ dm}$]

Grid area for the solution.

A 2.0 Die Zeichnung zeigt das Trapez ABCD mit $[AB] \parallel [CD]$.


Es gilt: $\overline{CD} = 8 \text{ cm}$; $\overline{AD} = 6 \text{ cm}$; $\overline{BC} = 7 \text{ cm}$; $\sphericalangle DCB = 130^\circ$.

Runden Sie im Folgenden alle Ergebnisse auf zwei Nachkommastellen.



A 2.1 Berechnen Sie die Länge der Diagonalen $[BD]$, das Maß ε des Winkels CBD und das Maß α des Winkels BAD.


[Ergebnisse: $\overline{BD} = 13,60 \text{ cm}$; $\varepsilon = 26,79^\circ$; $\alpha = 63,29^\circ$]



5 P


A 2.2 Die Diagonale [BD] berührt den Kreisbogen \widehat{FG} im Punkt E.
 Ermitteln Sie rechnerisch den Radius \overline{CE} des Kreissektors CFG.

[Ergebnis: $\overline{CE} = 3,16 \text{ cm}$]



1 P

A 2.3 Berechnen Sie den prozentualen Anteil des Flächeninhaltes A der grauen Figur, die durch die Kreisbögen \widehat{FG} , \widehat{HK} und die Strecken [FH] und [GK] begrenzt wird, am Flächeninhalt des Trapezes ABCD. Es gilt: $\overline{FH} = \overline{GK} = 1 \text{ cm}$.

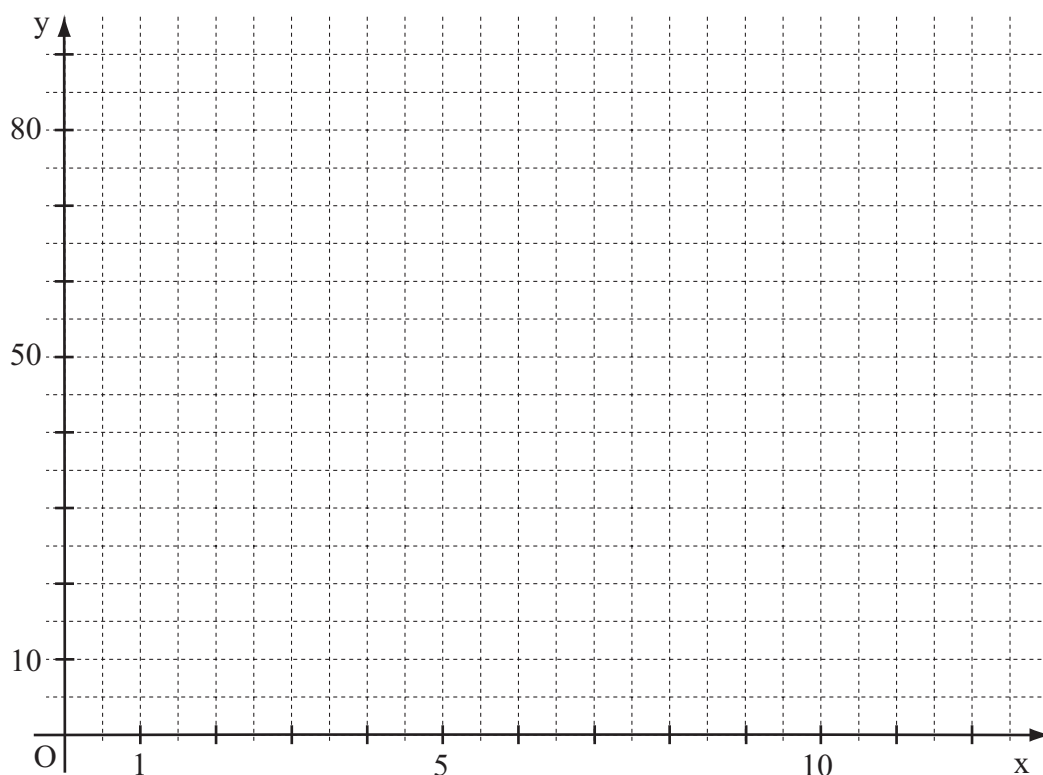


3 P

A 3.0 In einem Labor wird der Zerfall von Milchschaum untersucht. Bei anfänglich 80 cm^3 Milchschaum lässt sich der Zerfall dieses Milchschaums x Minuten nach Versuchsbeginn durch die Funktion f mit der Gleichung $y = 80 \cdot 0,815^x$ mit $G = \mathbb{R}_0^+ \times \mathbb{R}_0^+$ annähernd beschreiben, wobei $y \text{ cm}^3$ das Volumen des verbleibenden Milchschaums darstellt.

A 3.1 Ergänzen Sie die Wertetabelle zur Berechnung des Volumens des verbleibenden Milchschaums. Runden Sie dabei auf ganze Kubikzentimeter und zeichnen Sie so dann den zugehörigen Graphen zu f in das Koordinatensystem ein.

x	0	1	2	3	5	8	12
$80 \cdot 0,815^x$							




2 P

A 3.2 Bestimmen Sie mit Hilfe des Graphen, nach welcher Zeit noch 35 cm^3 des anfänglichen Milchschaumvolumens von 80 cm^3 vorhanden sind.

Antwort: _____

1 P

A 3.3 Berechnen Sie, wie viele Kubikzentimeter Milchschaum nach zehn Minuten aus den ursprünglich 80 cm^3 zerfallen sind.



2 P

Abschlussprüfung 2014

an den Realschulen in Bayern



Prüfungsdauer:
150 Minuten

Mathematik II

Aufgabe B 1

Haupttermin

- B 1.0 Die Parabel p_1 verläuft durch die Punkte $P(-2|-2)$ und $Q(8|3)$. Sie hat eine Gleichung der Form $y = ax^2 + bx + 3$ mit $a \in \mathbb{R} \setminus \{0\}$, $b \in \mathbb{R}$ und $\mathbb{G} = \mathbb{R} \times \mathbb{R}$.
Die Parabel p_2 besitzt die Gleichung $y = \frac{1}{8}x^2 - \frac{1}{2}x - 2$ mit $\mathbb{G} = \mathbb{R} \times \mathbb{R}$.
- B 1.1 Zeigen Sie durch Berechnung der Werte für a und b , dass die Parabel p_1 die Gleichung $y = -\frac{1}{4}x^2 + 2x + 3$ besitzt. Zeichnen Sie sodann die Parabeln p_1 und p_2 für $x \in [-2; 9]$ in ein Koordinatensystem.
Für die Zeichnung: Längeneinheit 1 cm; $-3 \leq x \leq 10$; $-3 \leq y \leq 8$. 4 P
- B 1.2 Punkte $A_n \left(x \mid -\frac{1}{4}x^2 + 2x + 3 \right)$ auf der Parabel p_1 und Punkte $C_n \left(x \mid \frac{1}{8}x^2 - \frac{1}{2}x - 2 \right)$ auf der Parabel p_2 haben dieselbe Abszisse x . Sie sind zusammen mit Punkten B_n und D_n für $x \in]-1,61; 8,28[$ Eckpunkte von Rauten $A_n B_n C_n D_n$ mit den Diagonalschnittpunkten M_n .
Für die Länge der Diagonalen $[B_n D_n]$ gilt: $\overline{B_n D_n} = 5 \text{ LE}$.
Zeichnen Sie die Rauten $A_1 B_1 C_1 D_1$ für $x = 1$ und $A_2 B_2 C_2 D_2$ für $x = 7$ in das Koordinatensystem zu B 1.1 ein. 2 P
- B 1.3 Zeigen Sie durch Rechnung, dass für die Länge der Diagonalen $[A_n C_n]$ in Abhängigkeit von der Abszisse x der Punkte A_n gilt:
 $\overline{A_n C_n}(x) = (-0,375x^2 + 2,5x + 5) \text{ LE}$. 1 P
- B 1.4 Unter den Rauten $A_n B_n C_n D_n$ gibt es Rauten $A_3 B_3 C_3 D_3$ und $A_4 B_4 C_4 D_4$, für die gilt:
 $\overline{A_3 B_3} = \overline{A_4 B_4} = 4 \text{ LE}$.
Berechnen Sie die Koordinaten der Punkte A_3 und A_4 .
Runden Sie auf zwei Stellen nach dem Komma. 4 P
- B 1.5 Unter den Diagonalen $[A_n C_n]$ hat die Diagonale $[A_0 C_0]$ die maximale Länge. Berechnen Sie die Länge der Strecke $[A_0 C_0]$ und den zugehörigen Wert für x .
Berechnen Sie sodann den Flächeninhalt der Raute $A_0 B_0 C_0 D_0$.
Runden Sie auf zwei Stellen nach dem Komma. [Ergebnis: $\overline{A_0 C_0} = 9,17 \text{ LE}$] 3 P
- B 1.6 Begründen Sie rechnerisch, dass für das Maß der Winkel $\sphericalangle A_n D_n M_n$ gilt:
 $\sphericalangle A_n D_n M_n < 65^\circ$. 3 P

Bitte wenden!



Prüfungsdauer:
150 Minuten

Mathematik II

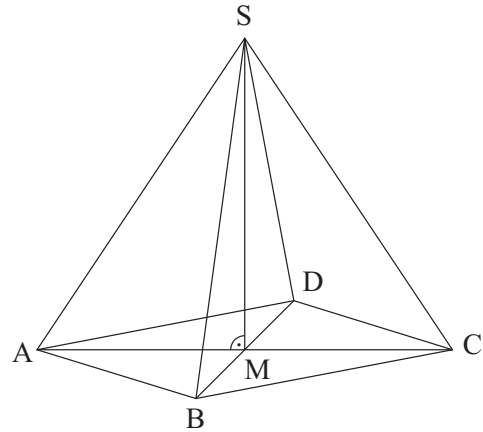
Aufgabe B 2

Haupttermin

B 2.0 Die nebenstehende Skizze zeigt ein Schrägbild der Pyramide ABCDS, deren Grundfläche die Raute ABCD mit dem Diagonalschnittpunkt M ist.

Die Spitze S der Pyramide ABCDS liegt senkrecht über dem Punkt M.

Es gilt: $\overline{AC} = 12 \text{ cm}$; $\overline{BD} = 8 \text{ cm}$; $\overline{MS} = 9 \text{ cm}$.



Runden Sie im Folgenden auf zwei Stellen nach dem Komma.

B 2.1 Zeichnen Sie das Schrägbild der Pyramide ABCDS, wobei die Strecke [AC] auf der Schrägbildachse und der Punkt A links vom Punkt C liegen soll.

Für die Zeichnung gilt: $q = \frac{1}{2}$; $\omega = 45^\circ$.

Bestimmen Sie sodann rechnerisch die Länge der Strecke [AS] und das Maß α des Winkels CAS.

[Ergebnis: $\alpha = 56,31^\circ$]

4 P

B 2.2 Für Punkte P_n auf der Strecke [AS] gilt: $\overline{AP_n}(x) = x \text{ cm}$ mit $x \in \mathbb{R}$ und $0 < x \leq 10,82$. Die Punkte P_n sind Spitzen von Pyramiden $ABDP_n$.

Zeichnen Sie die Pyramide $ABDP_1$ und die dazugehörige Höhe $[H_1P_1]$ mit dem Höhenfußpunkt $H_1 \in [AM]$ für $x = 5$ in das Schrägbild zu B 2.1 ein.

Berechnen Sie sodann die Länge der Strecke $[MP_1]$ und das Volumen der Pyramide $ABDP_1$.

[Teilergebnisse: $\overline{MP_1} = 5,26 \text{ cm}$; $\overline{H_1P_1} = 4,16 \text{ cm}$]

4 P

B 2.3 Bestimmen Sie durch Rechnung den prozentualen Anteil des Volumens der Pyramide $ABDP_1$ am Volumen der Pyramide ABCDS.

2 P

B 2.4 Zeichnen Sie das Dreieck MCP_1 in das Schrägbild zu B 2.1 ein und berechnen Sie sodann dessen Flächeninhalt.

3 P

B 2.5 Die Strecke $[MP_0]$ besitzt unter den Strecken $[MP_n]$ die minimale Länge.

Zeichnen Sie diese Strecke in das Schrägbild zu B 2.1 ein und berechnen Sie deren Länge.

Begründen Sie sodann, dass es unter den Dreiecken BDP_n kein Dreieck mit einem Flächeninhalt von 18 cm^2 gibt.

4 P