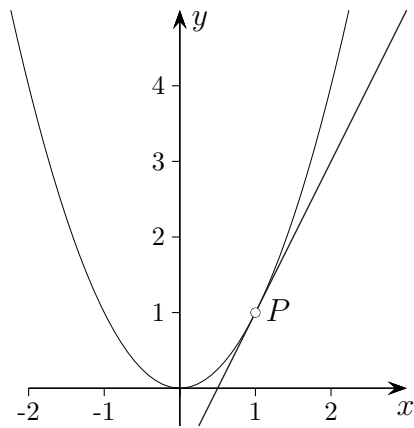
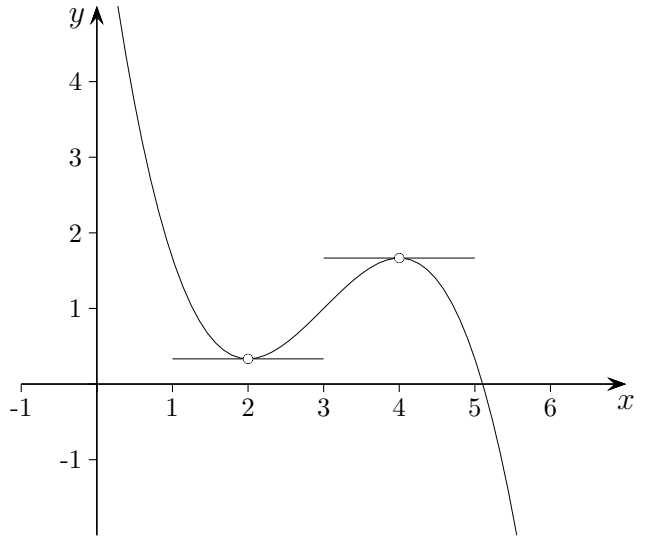
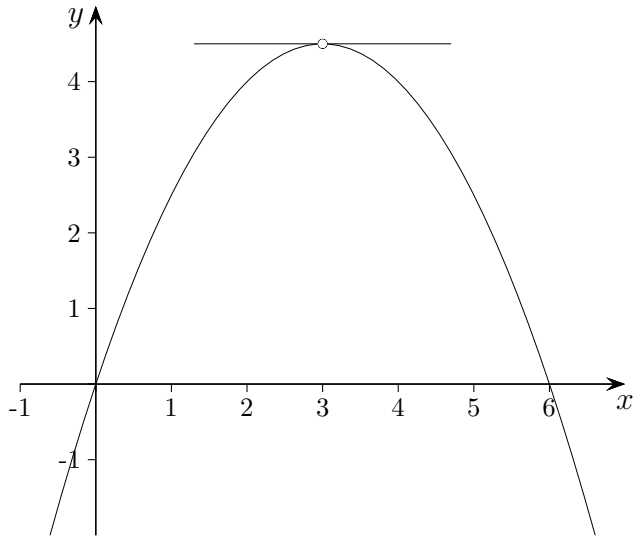
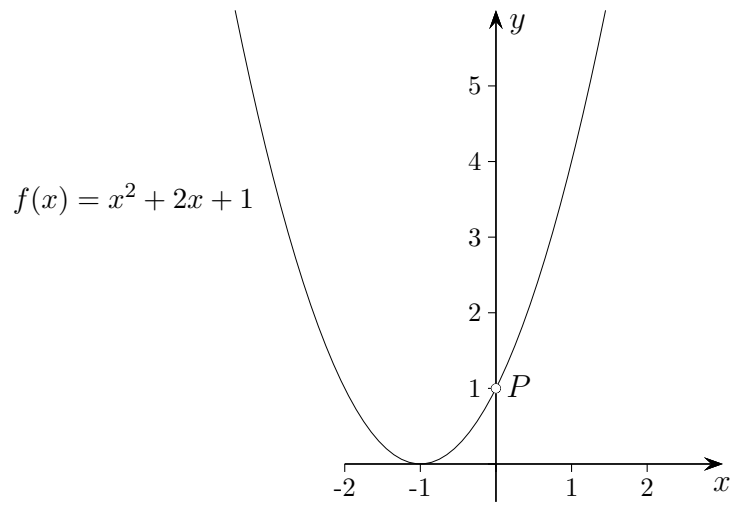
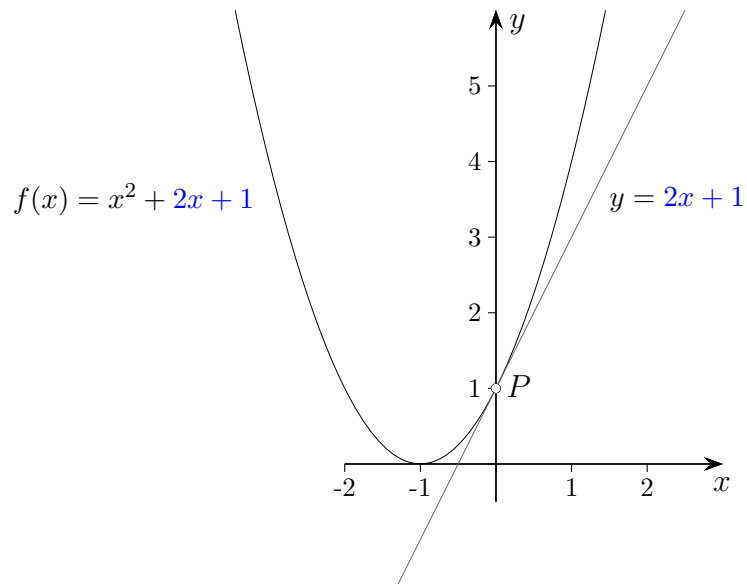


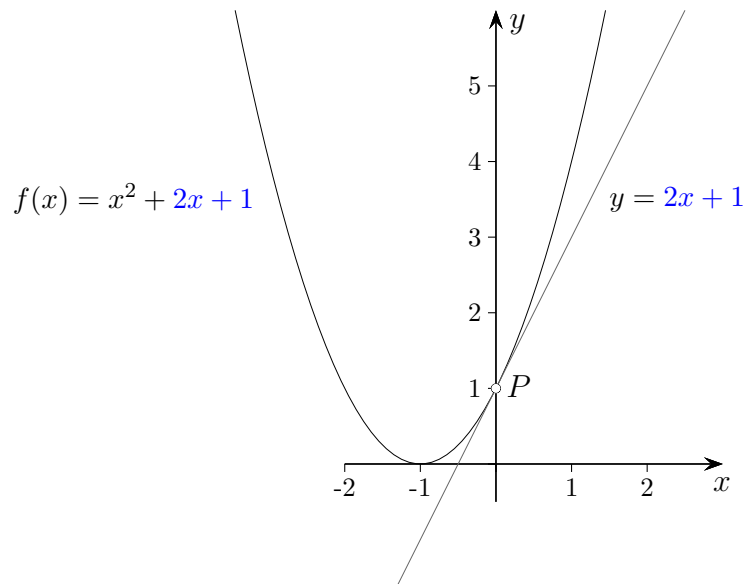
Tangentensteigung





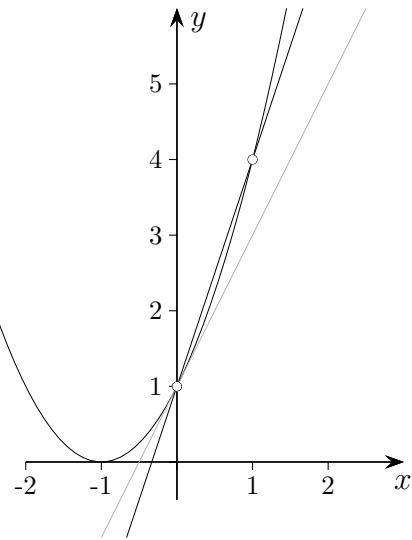




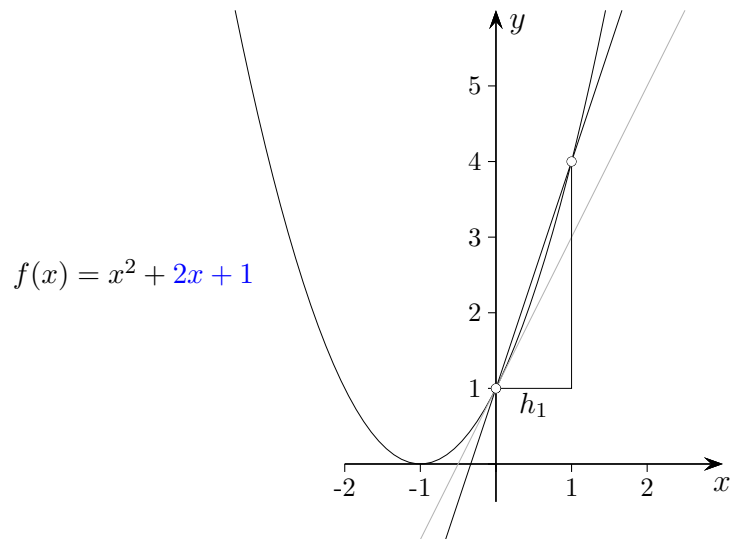


$$\begin{aligned}x^2 + 2x + 1 &= 2x + 1 \\x^2 &= 0 \\x &= 0\end{aligned}$$

$$f(x) = x^2 + 2x + 1$$

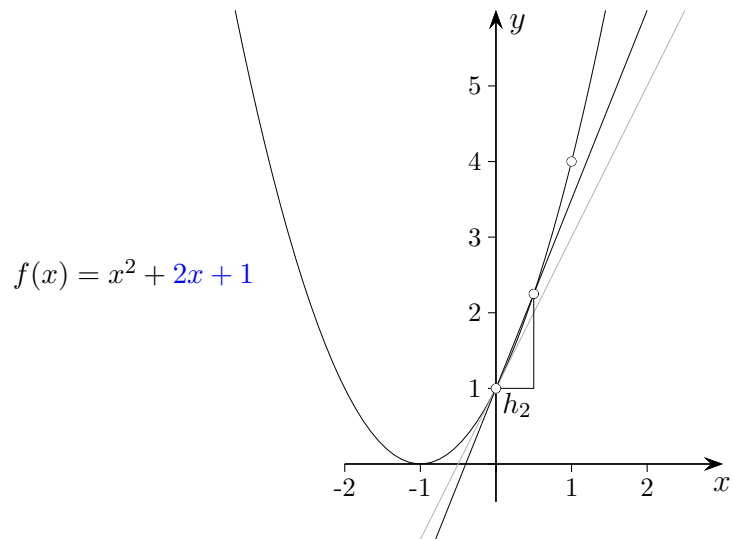


Punkte auf dem Graphen
(0|1) und (1|4)



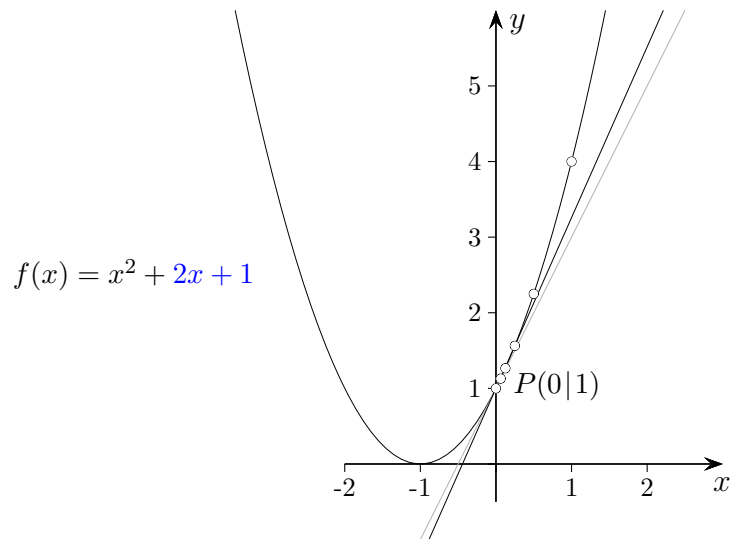
Punkte auf dem Graphen
(0|1) und (1|4)

Sekantensteigung
 $3 = (\text{Differenz der } y\text{-Werte}) / (\text{Differenz der } x\text{-Werte})$



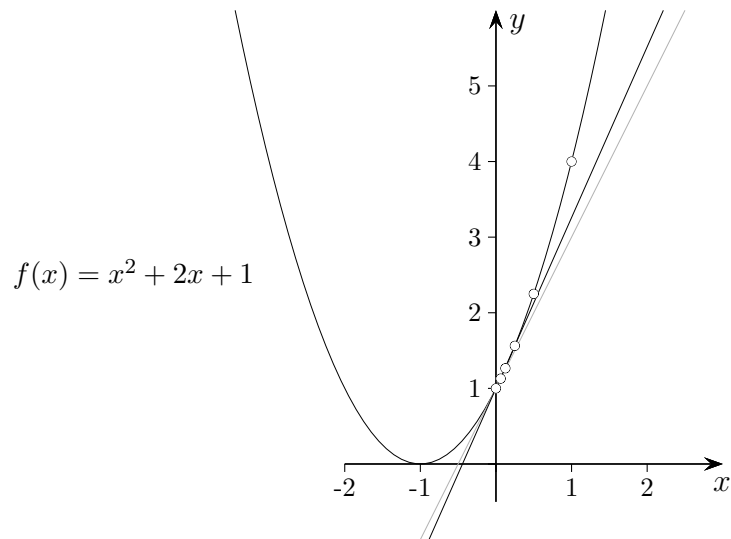
Punkte auf dem Graphen
 $(0|1)$ und $(0,5|2,25)$

Sekantensteigung
 $2,5$



Punkte auf dem Graphen

$(1|4)$, $(0,5|2,25)$, $(0,25|1,563)$, $(0,125|1,266)$, $(0,063|1,129)$, $(0,031|1,063)$...



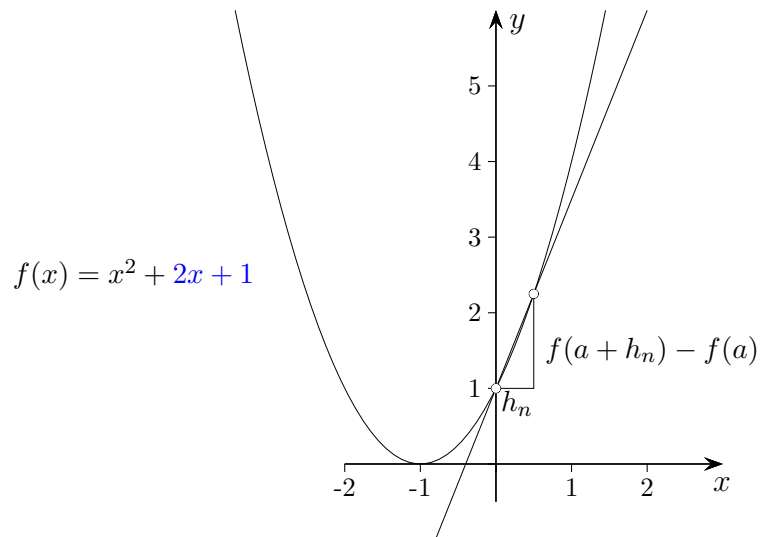
Punkte auf dem Graphen

$(1|4)$, $(0,5|2,25)$, $(0,25|1,563)$, $(0,125|1,266)$, $(0,063|1,129)$, $(0,031|1,063)$...

zugehörige Sekantensteigungen

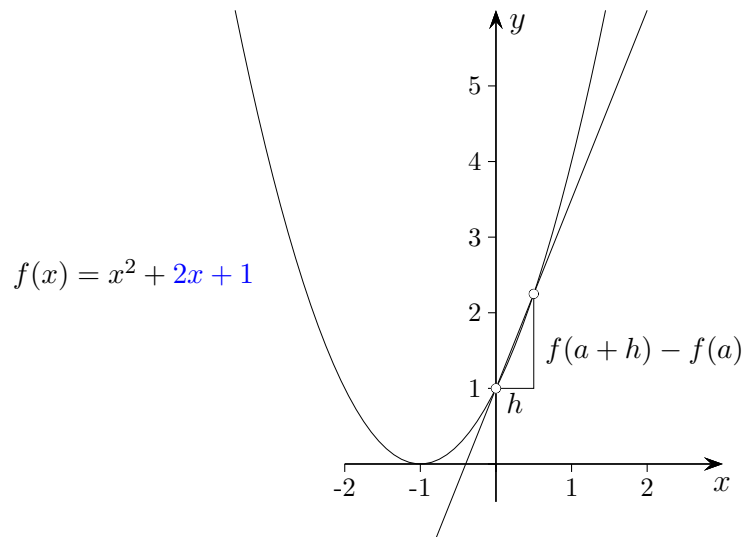
3, 2,5, 2,25, 2,125, 2,0625, 2,0313, 2,0156, 2,0078, 2,0039, 2,00195, 2,00098 ...

strebt gegen 2,00000...



$$a = 0$$

$$m_{\text{Tangente}} = f'(a) = \lim_{n \rightarrow \infty} \frac{f(a + h_n) - f(a)}{h_n}$$



$$a = 0$$

$$m_{\text{Tangente}} = f'(a) = \lim_{h \rightarrow 0} \frac{f(a+h) - f(a)}{h} = \lim_{h \rightarrow 0} \frac{2h + h^2}{h} = \lim_{h \rightarrow 0} (2 + h) = 2$$

$$f(x) = \frac{1}{4}x^3 - 2x^2 + 3x + 2 \quad \text{Zahl als Summand fällt raus.}$$

Faktorregel: Zahl als
Faktor bleibt erhalten.

Potenzregel:

$$f(x) = x^n$$

$$f'(x) = nx^{n-1}$$

Ableitung (Steigung) $m = 3$

$$f'(x) = \frac{1}{4} \cdot 3x^2 - 2 \cdot 2x + 3 \quad \text{Diese Zeile wird übersprungen.}$$

$$f'(x) = \frac{3}{4} \cdot x^2 - 4x + 3$$

In welchen Punkten besitzt die Funktion waagerechte Tangenten?

a) $f(x) = -\frac{1}{2}x^2 + 3x$

b) $f(x) = -\frac{1}{3}x^3 + 3x^2 - 8x + 7$

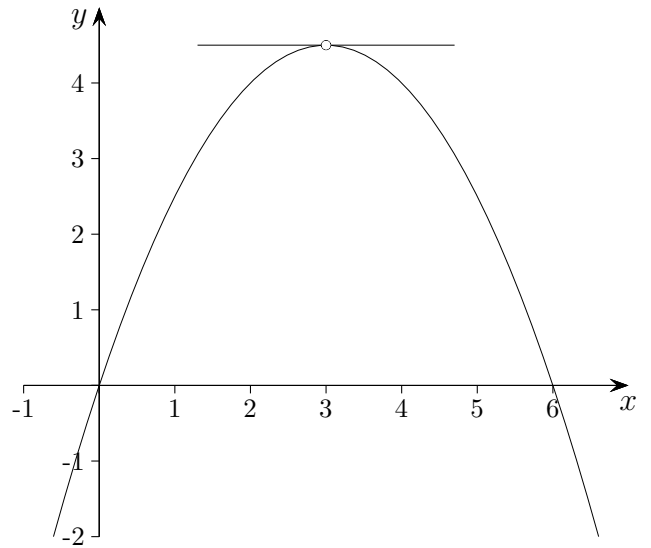
Lösungen:

a) $f(x) = -\frac{1}{2}x^2 + 3x$

$$f'(x) = -x + 3$$

$$0 = -x + 3$$

$$x = 3 \quad \text{Max}(3 \mid 4,5)$$



$$\begin{aligned}
 \text{b) } f(x) &= -\frac{1}{3}x^3 + 3x^2 - 8x + 7 \\
 f'(x) &= -x^2 + 6x - 8 \\
 0 &= -x^2 + 6x - 8 \\
 x_1 = 4, \quad x_2 = 2, \quad E_1\left(4 \mid \frac{5}{3}\right), \quad E_2\left(2 \mid \frac{1}{3}\right)
 \end{aligned}$$

